

ぐるドラQ-6 「富士十湖を探る(前編)」 出題クイズ(1)







Q-A	SCP - FCP	Q-B	SCP	Q-C	SCP
	<p>【ラリークラス】 各CP間距離を 0.01km単位で答えて下さい。 (0.01km未満四捨五入) 誤差0.01kmにつき減点1、 最大減点各10</p> <p>【ドライブクラス】 各CP間距離の 短い順を番号で答えて下さい。 誤差1につき減点1、最大減点各10 (例:「3」番目と解答したCPの正解が 「5」番目の場合、減点2)</p>	<p>誤差1につき減点1、最大減点2</p> 	<p>減点2</p> 		
		<p>「道の駅つる」 この観光案内板に富士山の写 真は全部でいくつある？</p>	<p>「TSURU GUIDE MAP」 この地図によれば、九鬼山は何 の名山・秀峰に指定されてい るか？(Q-Bと同じ観光案内板)</p>		
Q-D	1CP	Q-E	2CP	Q-F	2CP
	減点2		減点2		減点2
					
	<p>「山神社」 この神社にある天然記念物の名称 は？</p>	<p>「明見湖に面した壁画」 この壁画は少なくとも20人以上で描 かれていると作成者が判断した理由 は何か？(写真に写っていない部分 も含める)</p>	<p>「北斎の石碑」 この碑の設立を世話したのは、 何の校長か？</p>		
Q-G	3CP	Q-H	4CP周辺、右欄参照	Q-H	藤原邸へのルート
	減点2		誤差2につき減点1、最大減点2		4CPから徒歩5分
					
	<p>「きみまる茶や」 布袋尊像の上方にある木彫りの 七福神のうち、布袋尊の向かっ て左隣にいる七福神は何？(駐 車場の一角の四阿にある)</p>	<p>「藤原邸」 となりの水車小屋の製粉室内に あるこの歯車に、歯はいくつある か？(製粉室が施錠されている 場合は、ガラス越しに数えるか、 古民家内の管理人に開錠してもら うこと、10-17時火曜定休)</p>			

ぐるドラQ-6 「富士十湖を探る(前編)」 出題クイズ(2)

Q-I	6CP in	Q-J	6CP out 付近	Q-K	7CP
減点2		減点2		減点1	
					
<p>「リニアの見える丘公園」 この2つの展望台は後から設置されたことが分かるが、その理由は何か？(現地で得られる情報で解答のこと)</p>		<p>「八代ふるさと公園」 このレリーフ板にある幾つかの訂正跡のうち、標高以外のとんでもないミスは何か？(訂正前の状態を答える必要なし)</p>		<p>「ゆめソーラー館やまなし」 この説明板に書かれているヤギの特徴や放牧の効果のうち、作成者が厳密には誤りと考えたものはどれ？(1つだけ)</p>	
Q-L	7CP付近	Q-M	8CP	Q-N	10CP
減点2		減点2		減点2	
					
<p>「芦川第三発電所 水車」 銘板では、アルファベットの”I”を何と仮名表記してあるか？(Q-Kの右横の階段を登った先にある、銘板の表記通りに解答のこと)</p>		<p>「道の駅とよとみ」 この観光案内板の表裏で同じ内容が掲載されているが、表示が最も異なる点は何か？</p>		<p>「格子状の擁壁」 横方向のブロックのうち、長さが最大のもは何cmあるか？(誤差±5cmまで正解とする、写真のピンクの矢印は、1つの通常ブロックの長さを示している)</p>	
Q-O	10CP先				
減点2					
					
<p>「道店橋」 この橋は少なくとも1度架け替えられているが、なぜそれが分かるか？(現地で得られる情報で解答のこと)</p>					

ぐるドラQ-6 「富士十湖を探る(前編)」 出題クイズ(3)

Q-X1～Q-X6はこの順で登場します。

<p>Q-X1 いずれかのCP付近</p>	<p>Q-X2 いずれかのクイズ付近</p>	<p>Q-X3 いずれかのCP付近</p>
<p>減点2</p>	<p>減点2</p>	<p>減点2</p>
		
<p>この写真で隠されている文字は何か？</p>	<p>これは誰のサイン？</p>	<p>この素敵な外灯はどのCPにある？</p>
<p>Q-X4 いずれかのCP付近</p>	<p>Q-X5 いずれかのCP付近</p>	<p>Q-X6 いずれかのCP付近</p>
<p>減点2</p>	<p>減点2</p>	<p>減点2</p>
		
<p>これはどのCPにある？</p>	<p>何の初代グランドチャンピオンか？</p>	<p>この土蔵が見られるのはどのCPか？</p>

