






ぐるドラQ-11 「富士北麓トライアングル」 出題クイズ(1)

Q-A	SCP - FCP	Q-B	S CP	Q-C	OD
			減点2		減点2
	<p>【ラリークラス】 各CP間距離を 0.01km単位で答えて下さい。 (0.01km未満四捨五入) 誤差0.01kmにつき減点1、 最大減点各10</p> <p>【ドライブクラス】 各CP間距離の 短い順を番号で答えて下さい。 誤差1につき減点1、最大減点各10 (例:「3」番目と解答したCPの正解が 「5」番目の場合、減点2)</p>	 <p>「下吉田駅」 この車両に描かれているトーマス 号はいくつある？ (写真の車両側 面のみに限る)</p>	 <p>「耕地整理記念碑」によると 開田面積の合計は？ ただし坪数で答えること</p>		
Q-D	1 CP-out	Q-E	2 CP	Q-F	3 CP
	減点2		減点2		減点2
	 <p>この鳥居を含め狛犬までの間に建っている 鳥居が対象</p> <p>「新屋山神社」 掲額(またはその位置)に「山神 社」と書かれた鳥居はいくつある か？ (はっきり読み取れないものを 除く)</p>	 <p>「諏訪の森自然公園」 現在は火の使用は全面禁止だ が、表記修正漏れの看板があ る。消すべき文章は？ (Hint: 駐車場及び管理棟周辺)</p>	 <p>「全国育樹祭記念広場」 広場を周遊する舗装路に囲まれ た内側で、階段は何ヶ所にある か？</p>		
Q-G	3 CP~	Q-H	6 CP	Q-I	7 CP
	減点2		減点2		減点1
	 <p>試走車が3CPから平均20km/hで 41分10秒走行した地点にある林 道看板(裏向きを含む、写真はご 参考)の最上部に書かれている 林道名は？</p>	 <p>CP近くにあるこの「12番」とは、 何の番号を表しているか？</p>	 <p>「西湖いやしの里」及び駐車場周 辺 これは何の施設？ (入園しなくても解答可能)</p>		

ぐるドラQ-11 「富士北麓トライアングル」 出題クイズ(2)

Q-J	7CP	Q-K	8CP	Q-L	28図
	減点1		誤差2		誤差1につき減点1、最大2
					
	「西湖いやしの里」及び駐車場周辺 これは何の施設？ (入園しなくても解答可能)		「富士御室浅間神社」 この人たちは何に対する奉納者か？		「まちかど花壇」 写真に写っている看板に描かれたどんぐりの数の合計は？ (花壇内に立ち入らないこと) Hint:写真をよく見てね



Q-X1	いずれかの神社	Q-X2	いずれかの神社	Q-X3	いずれかの神社
	減点2		減点2		減点2
					
	(切り抜き加工、モノクロ加工済) 手水舎にあるこの龍の彫り物は、次のどの神社のものか？ ①新屋山神社 ②魔王天神社 ③富士御室浅間神社		(切り抜き加工、モノクロ加工済) 手水舎にあるこの龍の彫り物は、次のどの神社のものか？ ①新屋山神社 ②魔王天神社 ③富士御室浅間神社		(切り抜き加工、モノクロ加工済) 手水舎にあるこの龍の彫り物は、次のどの神社のものか？ ①新屋山神社 ②魔王天神社 ③富士御室浅間神社