

ぐるドラQ-10 「甲府縦走ジグザグルート 森と川と風と」 出題クイズ(1)

Q-A	SCP - FCP	Q-B	S CP	Q-C	7図
<p><b>【ラリークラス】</b> 各CP間距離(5-6CPを除く)を<b>0.01km単位</b>で答えて下さい。 (0.01km未満四捨五入) 誤差0.01kmにつき減点1、 最大減点各10</p> <p><b>【ドライブクラス】</b> 各CP間距離(5-6CPを除く)の<b>短い順</b>を番号で答えて下さい。 誤差1につき減点1、最大減点各10 (例:「3」番目と解答したCPの正解が「5」番目の場合、減点2)</p>		減点2		減点2	
		<p>「新宿行バスのりば 白根IC西」 16:13発のバスだけ違う点は何か? (一部ダイヤ運行再開の貼り紙は無視してください)</p>	<p>「恩賜林山神」の石碑 隣の木柱では合っているのに、この石碑では間違っている文字は?</p>		
Q-D	2CP	Q-E	2CP	Q-F	3CP(10図交差点角)
減点なし※		減点2		減点2	
					
<p>「県民の森 南伊那ヶ湖」 この白鳥は食パンを食べるか? (出題場所は写真の桟橋です、白鳥が不在の時は勘で答えてください)</p>		<p>「県民の森 菖蒲池」 池のほとりの説明板(右上の写真)によれば、この花は何?(菖蒲池で5月上旬に撮影)</p>		<p>「平林エリアマップ」 8つの見どころが紹介されているが、ここ「みさき耕舎」の北側で最もここから近い見どころは何か?</p>	
Q-G	4CP	Q-H	5CP先 約 1.8 km		
減点2		減点2(部分点あり)			
					
<p>「殿原スポーツ公園」 この案内図にあるこの表記(赤枠写真)は、元は何の一部か?</p>		<p>近接する2つの警戒標識なのに、描かれているカーブの形状が異なっている。現地で得られる情報から、その理由を推測してほしい。 (駐車場所に注意。標識の手前右側の路肩に駐車可(1台分)、標識の先左側のガードレールの切れ目から退避可、約250m先右手の旧道に駐車可)</p>			






※参加ルールに規定する方法で同順位の場合、Q-Dの成否で順位を決定する

ぐるドラQ-10 「甲府縦走ジグザグルート 森と川と風と」 出題クイズ(2)

<p>Q-I</p>	<p>7CP 減点2</p>	<p>Q-J</p>	<p>7CP 減点2</p>	<p>Q-K</p>	<p>8CP 減点2</p>
					
<p>「道の駅 富士川 太鼓堂」 ここに飾られている写真(赤枠内)に写っている建物は、何回場所を移したか？(展望室 9:00-18:00)</p>		<p>「道の駅 富士川 展望デッキ」 この写真の風景が見えるのは、東西南北どの方向か？(展望室 9:00-18:00)</p>		<p>「富士川防災公園内 押切刑場跡」 右の看板に「昭和42年11月20日町指定」とあるが、何という町が指定したのか？</p>	
<p>Q-L</p>	<p>8CP 完答以外は減点2</p>	<p>Q-M</p>	<p>8CP 減点2</p>	<p>Q-N</p>	<p>9CP 減点2</p>
					
<p>「富士川防災公園内 富士川治水の歴史広場」 ここに登場する川の名前をすべて挙げよ</p>		<p>「富士川防災公園内 ヘリポート近くの大きな説明板」 大工事にどれだけの費用がかかったと掲載されているか？</p>		<p>「ジュースのわたなべ」 ここに並んでいる自販機のベンダー(飲料メーカー)は全部で何社あるか？</p>	
<p>Q-O</p>	<p>10CP 減点2</p>	<p>Q-P</p>	<p>11CP 減点2</p>	<p>Q-Q</p>	<p>12CP 減点2</p>
					
<p>「さかいがわ農産物直売所」 この彫像が手にしている物(赤丸部分)は何だと考えられるか？</p>		<p>「リニア走行状況表示装置」 現在地のリニア軌道の勾配は何%か？(現地の情報だけでなく地図等から判断が必要、9-17時)</p>		<p>「釈迦堂遺跡博物館」 この土偶(しゃかちゃん)の画像は、博物館敷地内(館内を除く)にいくつあるか？(上の写真は敷地内のものではない)</p>	

ぐるドラQ-10 「甲府縦走ジグザグルート 森と川と風と」 出題クイズ(3)

Q-X1～Q-X5はこの順番で登場します(Q-X6は順番関係なし)。CPにはSCPを含みます。

<b>Q-X1</b>	いずれかのCP付近	<b>Q-X2</b>	いずれかのクイズ付近	<b>Q-X3</b>	いずれかのクイズ付近
減点2		減点2		減点2	
				 <p data-bbox="1129 725 1385 757">画像は加工しています</p>	
どのCPにあるか？		どこから寄贈されたものか？		どのクイズの近くにあるか？	
<b>Q-X4</b>	いずれかのクイズ付近	<b>Q-X5</b>	いずれかのCP付近	<b>Q-X6</b>	コース上のどこか
減点2		減点2		減点2	
				 <p data-bbox="1129 1332 1385 1364">画像は加工しています</p>	
月マークの下に書かれている漢字は？		どのCPにあるか？		どのCPにあるか？	

