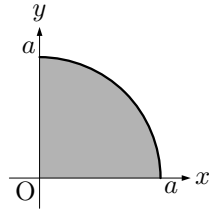


3章 重積分

練習問題 2-A

1. (1) 領域を図示すると



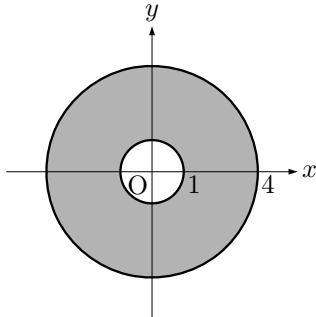
よって、領域 D は、次の不等式で表すことができる。

$$0 \leq r \leq a, \quad 0 \leq \theta \leq \frac{\pi}{2}$$

したがって

$$\begin{aligned} \text{与式} &= \iint_D \sqrt{r^2} \cdot r \, dr \, d\theta \\ &= \int_0^{\frac{\pi}{2}} \left\{ \int_0^a r^2 \, dr \right\} d\theta \\ &= \int_0^{\frac{\pi}{2}} \left[\frac{1}{3} r^3 \right]_0^a d\theta \\ &= \frac{1}{3} a^3 \int_0^{\frac{\pi}{2}} d\theta \\ &= \frac{1}{3} a^3 \left[\theta \right]_0^{\frac{\pi}{2}} \\ &= \frac{1}{3} a^3 \left(\frac{\pi}{2} - 0 \right) = \frac{1}{6} \pi a^3 \end{aligned}$$

(2) 領域を図示すると



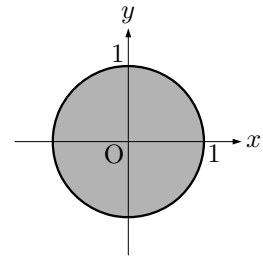
よって、領域 D は、次の不等式で表すことができる。

$$1 \leq r \leq 2, \quad 0 \leq \theta \leq 2\pi$$

したがって

$$\begin{aligned} \text{与式} &= \iint_D \frac{1}{r^2} \cdot r \, dr \, d\theta \\ &= \iint_D \frac{1}{r} \, dr \, d\theta \\ &= \int_0^{2\pi} \left\{ \int_1^2 \frac{1}{r} \, dr \right\} d\theta \\ &= \int_0^{2\pi} \left[\log |r| \right]_1^2 d\theta \\ &= \int_0^{2\pi} (\log 2 - 0) d\theta \\ &= \log 2 \int_0^{2\pi} d\theta \\ &= \log 2 \left[\theta \right]_0^{2\pi} \\ &= \log 2 \cdot 2\pi = 2\pi \log 2 \end{aligned}$$

(3) 領域を図示すると



よって、領域 D は、次の不等式で表すことができる。

$$0 \leq r \leq 1, \quad 0 \leq \theta \leq 2\pi$$

したがって

$$\begin{aligned} \text{与式} &= \iint_D \frac{1}{1+r^2} \cdot r \, dr \, d\theta \\ &= \iint_D \frac{r}{1+r^2} \, dr \, d\theta \\ &= \int_0^{2\pi} \left\{ \int_0^1 \frac{r}{1+r^2} \, dr \right\} d\theta \end{aligned}$$

$\int_0^1 \frac{r}{1+r^2} \, dr$ において、 $1+r^2 = t$ とおくと、 $2r \, dr = dt$

より、 $r \, dr = \frac{1}{2} dt$

また、 r と t の対応は

r	0	\rightarrow	1
t	1	\rightarrow	2

よって

$$\begin{aligned} \int_0^1 \frac{r}{1+r^2} \, dr &= \int_1^2 \frac{1}{t} \cdot \frac{1}{2} \, dt \\ &= \frac{1}{2} \int_1^2 \frac{1}{t} \, dt \\ &= \frac{1}{2} \left[\log |r| \right]_1^2 \\ &= \frac{1}{2} \log 2 \end{aligned}$$

したがって

$$\begin{aligned} \text{与式} &= \int_0^{2\pi} \frac{1}{2} \log 2 \, d\theta \\ &= \frac{1}{2} \log 2 \int_0^{2\pi} d\theta \\ &= \frac{1}{2} \log 2 \left[\theta \right]_0^{2\pi} \\ &= \frac{1}{2} \log 2 \cdot 2\pi = \pi \log 2 \end{aligned}$$

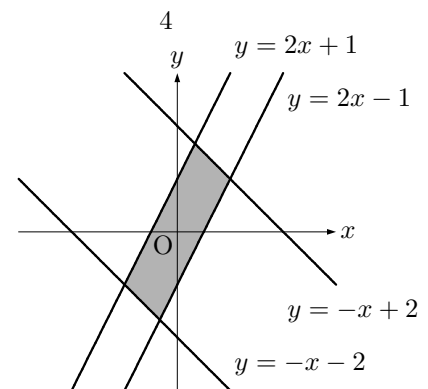
2. (1) $|x+y| \leq 2$ より、 $-2 \leq x+y \leq 2$

すなわち、 $-x-2 \leq y \leq -x+2$

$|2x-y| \leq 1$ より、 $-1 \leq 2x-y \leq 1$

すなわち、 $-2x-1 \leq -y \leq -2x+1$ であるから、 $2x-1 \leq y \leq 2x+1$

以上より、領域 D は図のようになる。



(2) $x + y = u \cdots \textcircled{1}$, $2x - y = v \cdots \textcircled{2}$ とする.

$\textcircled{1} + \textcircled{2}$ より, $3x = u + v$ であるから

$$x = \frac{u+v}{3}$$

よって, $\frac{\partial x}{\partial u} = \frac{1}{3}$, $\frac{\partial x}{\partial v} = \frac{1}{3}$

$\textcircled{1} \times 2 - \textcircled{2}$ より, $3y = 2u - v$ であるから

$$y = \frac{2u-v}{3}$$

よって, $\frac{\partial y}{\partial u} = \frac{2}{3}$, $\frac{\partial y}{\partial v} = -\frac{1}{3}$

また, $-2 \leq u \leq 2$, $-1 \leq v \leq 1$,

$$\frac{\partial(x, y)}{\partial(u, v)} = \begin{vmatrix} \frac{1}{3} & \frac{1}{3} \\ \frac{2}{3} & -\frac{1}{3} \end{vmatrix} = -\frac{1}{9} - \frac{2}{9} = -\frac{1}{3} \text{ であるから}$$

$$\text{与式} = \iint_D u^2 v^4 \left| -\frac{1}{3} \right| du dv$$

$$= \frac{1}{3} \iint_D u^2 v^4 du dv$$

$$= \frac{1}{3} \int_{-1}^1 \left\{ \int_{-2}^2 u^2 v^4 du \right\} dv$$

$$= \frac{1}{3} \int_{-1}^1 \left\{ v^4 \int_{-2}^2 u^2 du \right\} dv$$

$$= \frac{1}{3} \int_{-1}^1 \left\{ 2v^4 \int_0^2 u^2 du \right\} dv$$

$$= \frac{2}{3} \int_{-1}^1 v^4 \left[\frac{1}{3} u^3 \right]_0^2 dv$$

$$= \frac{2}{3} \int_{-1}^1 v^4 \cdot \frac{8}{3} dv$$

$$= \frac{16}{9} \cdot 2 \int_0^1 v^4 dv$$

$$= \frac{32}{9} \left[\frac{1}{5} v^5 \right]_0^1$$

$$= \frac{32}{9} \cdot \frac{1}{5} = \frac{32}{45}$$

3. $z = \frac{1}{2}(x^2 + y^2)$ について

$$\frac{\partial z}{\partial x} = x, \quad \frac{\partial z}{\partial y} = y$$

よって, 求める面積を S とすると

$$S = \iint_D \sqrt{x^2 + y^2 + 1} dx dy$$

極座標に変換すると, 領域 D は次の不等式で表すことができる.

$$0 \leq r \leq 1, \quad 0 \leq \theta \leq 2\pi$$

よって

$$S = \iint_D \sqrt{r^2 + 1} \cdot r dr d\theta$$

$$= \int_0^{2\pi} \left\{ \int_0^1 r \sqrt{r^2 + 1} dr \right\} d\theta$$

$\int_0^1 r \sqrt{r^2 + 1} dr$ において, $r^2 + 1 = t$ とおくと, $2r dr = dt$ よ

り, $r dr = \frac{1}{2} dt$

また, r と t の対応は

$$\begin{array}{l|l} r & 0 \rightarrow 1 \\ t & 1 \rightarrow 2 \end{array}$$

よって

$$\int_0^1 r \sqrt{r^2 + 1} dr = \int_1^2 \sqrt{t} \cdot \frac{1}{2} dt$$

$$= \frac{1}{2} \left[\frac{2}{3} t \sqrt{t} \right]_1^2$$

$$= \frac{1}{2} \cdot \frac{2}{3} (2\sqrt{2} - 1)$$

$$= \frac{1}{3} (2\sqrt{2} - 1)$$

したがって

$$S = \int_0^{2\pi} \frac{1}{3} (2\sqrt{2} - 1) d\theta$$

$$= \frac{1}{3} (2\sqrt{2} - 1) \int_0^{2\pi} d\theta$$

$$= \frac{1}{3} (2\sqrt{2} - 1) \left[\theta \right]_0^{2\pi}$$

$$= \frac{1}{3} (2\sqrt{2} - 1) \cdot 2\pi = \frac{2}{3} \pi (2\sqrt{2} - 1)$$

4. (1) $x - 1 = t$ とおくと, $dx = dt$

また, x と t の対応は

$$\begin{array}{l|l} x & 1 \rightarrow \infty \\ t & 0 \rightarrow \infty \end{array}$$

よって

$$\text{与式} = \int_0^\infty e^{-t^2} dt = \frac{\sqrt{\pi}}{2}$$

(2) $\frac{x+1}{\sqrt{2}} = t$ とおくと, $\frac{1}{\sqrt{2}} dx = dt$ より, $dx = \sqrt{2} dt$

また, x と t の対応は

$$\begin{array}{l|l} x & -\infty \rightarrow \infty \\ t & -\infty \rightarrow \infty \end{array}$$

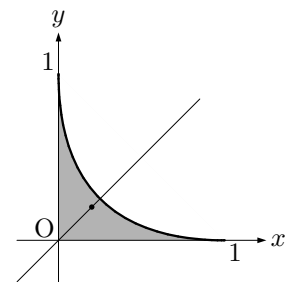
よって

$$\text{与式} = \int_{-\infty}^\infty e^{-t^2} \cdot \sqrt{2} dt$$

$$= \sqrt{2} \int_{-\infty}^\infty e^{-t^2} dt$$

$$= \sqrt{2} \cdot \sqrt{\pi} = \sqrt{2\pi}$$

5. 領域 D は, 直線 $y = x$ に関して対称だから, $\bar{x} = \bar{y}$



$\sqrt{x} + \sqrt{y} = 1$ より, $y = (1 - \sqrt{x})^2 = x - 2\sqrt{x} + 1$

よって, 領域は, $0 \leq x \leq 1$, $0 \leq y \leq x - 2\sqrt{x} + 1$

以上より

$$\iint_D x dx dy = \int_0^1 \left\{ \int_0^{x-2\sqrt{x}+1} x dy \right\} dx$$

$$= \int_0^1 x \left[y \right]_0^{x-2\sqrt{x}+1} dx$$

$$= \int_0^1 x(x - 2\sqrt{x} + 1) dx$$

$$= \int_0^1 (x^2 - 2x^{\frac{3}{2}} + x) dx$$

$$= \left[\frac{1}{3} x^3 - 2 \cdot \frac{2}{5} x^{\frac{5}{2}} + \frac{1}{2} x^2 \right]_0^1$$

$$= \frac{1}{3} - \frac{4}{5} + \frac{1}{2} = \frac{1}{30}$$

また

$$\begin{aligned} \iint_D dx dy &= \int_0^1 \left\{ \int_0^{x-2\sqrt{x}+1} dy \right\} dx \\ &= \int_0^1 \left[y \right]_0^{x-2\sqrt{x}+1} dx \\ &= \int_0^1 (x - 2\sqrt{x} + 1) dx \\ &= \left[\frac{1}{2}x^2 - 2 \cdot \frac{2}{3}x\sqrt{x} + x \right]_0^1 \\ &= \frac{1}{2} - \frac{4}{3} + 1 = \frac{1}{6} \end{aligned}$$

よって

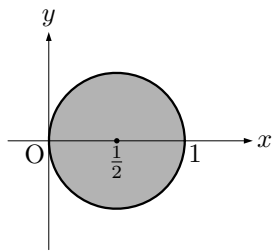
$$\bar{x} = \bar{y} = \frac{\iint_D x dx dy}{\iint_D dx dy} = \frac{\frac{1}{30}}{\frac{1}{6}} = \frac{1}{5}$$

したがって、求める重心の座標は、 $\left(\frac{1}{5}, \frac{1}{5}\right)$

練習問題 2-B

1. $x^2 + y^2 \leq x$ より
 $x^2 - x + y^2 \leq 0$
 $\left(x - \frac{1}{2}\right)^2 - \frac{1}{4} + y^2 \leq 0$
 $\left(x - \frac{1}{2}\right)^2 + y^2 \leq \frac{1}{4}$

領域を図示すると



極座標に変換すると、領域 D は次の不等式で表すことができる。

$$0 \leq r \leq \cos \theta, \quad -\frac{\pi}{2} \leq \theta \leq \frac{\pi}{2}$$

よって

$$\begin{aligned} \text{与式} &= \iint_D \sqrt{r \cos \theta} \cdot r dr d\theta \\ &= \int_{-\pi/2}^{\pi/2} \left\{ \int_0^{\cos \theta} r \sqrt{r \cos \theta} dr \right\} d\theta \\ &= \int_{-\pi/2}^{\pi/2} \left\{ \sqrt{\cos \theta} \int_0^{\cos \theta} r \sqrt{r} dr \right\} d\theta \\ &= \int_{-\pi/2}^{\pi/2} \sqrt{\cos \theta} \left[\frac{2}{5} r^{5/2} \right]_0^{\cos \theta} d\theta \\ &= \int_{-\pi/2}^{\pi/2} \sqrt{\cos \theta} \left[\frac{2}{5} r^2 \sqrt{r} \right]_0^{\cos \theta} d\theta \\ &= \frac{2}{5} \int_{-\pi/2}^{\pi/2} \cos^2 \theta (\sqrt{\cos \theta})^2 d\theta \\ &= \frac{2}{5} \int_{-\pi/2}^{\pi/2} \cos^3 \theta d\theta \\ &= \frac{4}{5} \int_0^{\pi/2} \cos^3 \theta d\theta \quad (\cos^3 \theta \text{ は偶関数}) \\ &= \frac{4}{5} \cdot \frac{2}{3} = \frac{8}{15} \end{aligned}$$

2. $x = ar \cos \theta, y = br \sin \theta$ とおくと

$$\frac{a^2 r^2 \cos^2 \theta}{a^2} + \frac{b^2 r^2 \sin^2 \theta}{b^2} \leq 1$$

$$r^2 \cos^2 \theta + r^2 \sin^2 \theta \leq 1$$

すなわち、 $r^2 \leq 1$ であるから、 $0 \leq r \leq 1, 0 \leq \theta \leq 2\pi$

また

$$\frac{\partial x}{\partial r} = a \cos \theta, \quad \frac{\partial x}{\partial \theta} = -ar \sin \theta$$

$$\frac{\partial y}{\partial r} = b \sin \theta, \quad \frac{\partial y}{\partial \theta} = br \cos \theta$$

$$\text{であるから, } \frac{\partial(x, y)}{\partial(r, \theta)} = \begin{vmatrix} a \cos \theta & -ar \sin \theta \\ b \sin \theta & br \cos \theta \end{vmatrix}$$

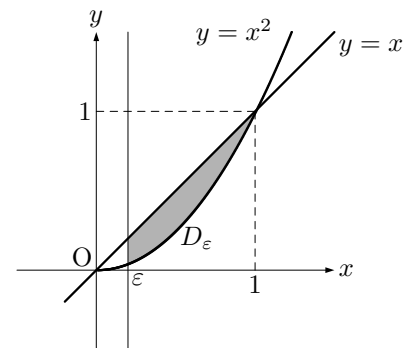
$$= abr \cos^2 \theta + abr \sin^2 \theta$$

$$= abr(\cos^2 \theta + \sin^2 \theta) = abr (\geq 0)$$

よって

$$\begin{aligned} \text{与式} &= \iint_D \{(ar \cos \theta)^2 + (br \sin \theta)^2\} \cdot abr dr d\theta \\ &= \int_0^{2\pi} \left\{ \int_0^1 r^2 (a^2 \cos^2 \theta + b^2 \sin^2 \theta) abr dr \right\} d\theta \\ &= ab \int_0^{2\pi} \left\{ (a^2 \cos^2 \theta + b^2 \sin^2 \theta) \int_0^1 r^3 dr \right\} d\theta \\ &= ab \int_0^{2\pi} (a^2 \cos^2 \theta + b^2 \sin^2 \theta) \left[\frac{1}{4} r^4 \right]_0^1 d\theta \\ &= ab \int_0^{2\pi} \frac{1}{4} (a^2 \cos^2 \theta + b^2 \sin^2 \theta) d\theta \\ &= \frac{1}{4} ab \int_0^{2\pi} (a^2 \cos^2 \theta + b^2 \sin^2 \theta) d\theta \\ &= \frac{1}{4} ab \left(\int_0^{2\pi} a^2 \cos^2 \theta d\theta + \int_0^{2\pi} b^2 \sin^2 \theta d\theta \right) \\ &= \frac{1}{4} ab \left(4a^2 \int_0^{\pi/2} \cos^2 \theta d\theta + 4b^2 \int_0^{\pi/2} \sin^2 \theta d\theta \right) \\ &= ab \left\{ a^2 \left(\frac{1}{2} \cdot \frac{1}{2} \pi \right) + b^2 \left(\frac{1}{2} \cdot \frac{1}{2} \pi \right) \right\} \\ &= ab \left(\frac{\pi}{4} a^2 + \frac{\pi}{4} b^2 \right) \\ &= \frac{1}{4} \pi ab (a^2 + b^2) \end{aligned}$$

3. 領域 D 内で、 $f(0, 0)$ は定義されないので、図のような領域を考え、これを D_ϵ とする。また、この領域 D 内で、 $\frac{x}{x^2 + y^2} \geq 0$



$$\begin{aligned} \text{与式} &= \lim_{\epsilon \rightarrow +0} \iint_{D_\epsilon} \frac{x}{x^2 + y^2} dx dy \\ &= \lim_{\epsilon \rightarrow +0} \int_\epsilon^1 \left\{ \int_{x^2}^x \frac{x}{x^2 + y^2} dy \right\} dx \\ &= \lim_{\epsilon \rightarrow +0} \int_\epsilon^1 x \left[\frac{1}{x} \tan^{-1} \frac{y}{x} \right]_{x^2}^x dx \\ &= \lim_{\epsilon \rightarrow +0} \int_\epsilon^1 (\tan^{-1} 1 - \tan^{-1} x) dx \\ &= \lim_{\epsilon \rightarrow +0} \int_\epsilon^1 \left(\frac{\pi}{4} - \tan^{-1} x \right) dx \end{aligned}$$

ここで

$$\begin{aligned} \int \tan^{-1} x dx &= \int (x)' \tan^{-1} x dx \\ &= x \tan^{-1} x - \int x \cdot \frac{1}{1+x^2} dx \\ &= x \tan^{-1} x - \int \frac{x}{1+x^2} dx \\ &= x \tan^{-1} x - \frac{1}{2} \log(1+x^2) \end{aligned}$$

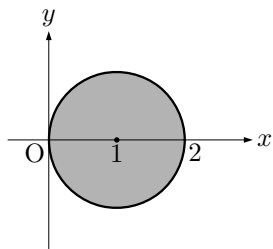
よって

$$\begin{aligned} \text{与式} &= \lim_{\varepsilon \rightarrow +0} \left[\frac{\pi}{4} x - \left\{ x \tan^{-1} x - \frac{1}{2} \log(1+x^2) \right\} \right]_{\varepsilon}^1 \\ &= \lim_{\varepsilon \rightarrow +0} \left\{ \left(\frac{\pi}{4} - \tan^{-1} 1 + \frac{1}{2} \log 2 \right) \right. \\ &\quad \left. - \left(\frac{\pi}{4} \varepsilon - \varepsilon \tan^{-1} \varepsilon + \frac{1}{2} \log(1+\varepsilon^2) \right) \right\} \\ &= \lim_{\varepsilon \rightarrow +0} \left\{ \left(\frac{\pi}{4} - \frac{\pi}{4} + \frac{1}{2} \log 2 \right) \right. \\ &\quad \left. - \left(\frac{\pi}{4} \varepsilon - \varepsilon \tan^{-1} \varepsilon + \frac{1}{2} \log(1+\varepsilon^2) \right) \right\} \\ &= \frac{1}{2} \log 2 \end{aligned}$$

4. $x^2 + y^2 \leq 2x$ より

$$\begin{aligned} x^2 - 2x + y^2 &\leq 0 \\ (x-1)^2 - 1 + y^2 &\leq 0 \\ (x-1)^2 + y^2 &\leq 1 \end{aligned}$$

直円柱 F の底面を領域 D として、これを図示すると



極座標に変換すると、領域 D は次の不等式で表すことができる。

$$0 \leq r \leq 2 \cos \theta, \quad -\frac{\pi}{2} \leq \theta \leq \frac{\pi}{2}$$

(1) 求める体積を V とすると

$$\begin{aligned} V &= \iint_D (x^2 + y^2) dx dy \\ &= \iint_D r^2 \cdot r dr d\theta \\ &= \int_{-\pi/2}^{\pi/2} \left\{ \int_0^{2 \cos \theta} r^3 dr \right\} d\theta \\ &= \int_{-\pi/2}^{\pi/2} \left[\frac{1}{4} r^4 \right]_0^{2 \cos \theta} d\theta \\ &= \int_{-\pi/2}^{\pi/2} \frac{1}{4} \cdot 16 \cos^4 \theta d\theta \\ &= 4 \int_{-\pi/2}^{\pi/2} \cos^4 \theta d\theta \\ &= 8 \int_0^{\pi/2} \cos^4 \theta d\theta \\ &= 8 \cdot \frac{3}{4} \cdot \frac{1}{2} \cdot \frac{\pi}{2} = \frac{3}{2} \pi \end{aligned}$$

(2) 求める体積を V とすると

$$\begin{aligned} V &= \iint_D x^2 dx dy \\ &= \iint_D r^2 \cos^2 \theta \cdot r dr d\theta \\ &= \int_{-\pi/2}^{\pi/2} \left\{ \int_0^{2 \cos \theta} r^3 \cos^2 \theta dr \right\} d\theta \\ &= \int_{-\pi/2}^{\pi/2} \left\{ \cos^2 \theta \int_0^{2 \cos \theta} r^3 dr \right\} d\theta \\ &= \int_{-\pi/2}^{\pi/2} \cos^2 \theta \left[\frac{1}{4} r^4 \right]_0^{2 \cos \theta} d\theta \\ &= 4 \int_{-\pi/2}^{\pi/2} \cos^2 \theta \cdot \cos^4 \theta d\theta \\ &= 4 \int_{-\pi/2}^{\pi/2} \cos^6 \theta d\theta \\ &= 8 \int_0^{\pi/2} \cos^6 \theta d\theta \\ &= 8 \cdot \frac{5}{6} \cdot \frac{3}{4} \cdot \frac{1}{2} \cdot \frac{\pi}{2} = \frac{5}{4} \pi \end{aligned}$$

5. (1) $\frac{x-\mu}{\sqrt{2}\sigma} = t$ とおくと、 $\frac{1}{\sqrt{2}\sigma} dx = dt$ より、 $dx = \sqrt{2}\sigma dt$

また、 x と t の対応は

$$\begin{array}{c|c} x & -\infty \rightarrow \infty \\ \hline t & -\infty \rightarrow \infty \end{array}$$

よって

$$\begin{aligned} \text{左辺} &= \frac{1}{\sqrt{2\pi}\sigma} \int_{-\infty}^{\infty} e^{-t^2} \cdot \sqrt{2}\sigma dt \\ &= \frac{1}{\sqrt{2\pi}\sigma} \cdot \sqrt{2}\sigma \int_{-\infty}^{\infty} e^{-t^2} dt \\ &= \frac{1}{\sqrt{\pi}} \cdot \sqrt{\pi} = 1 = \text{右辺} \end{aligned}$$

(2) $\frac{x-\mu}{\sqrt{2}\sigma} = t$ とおくと、 $\frac{1}{\sqrt{2}\sigma} dx = dt$ より、 $dx = \sqrt{2}\sigma dt$

$$x = \sqrt{2}\sigma t + \mu$$

また、 x と t の対応は

$$\begin{array}{c|c} x & -\infty \rightarrow \infty \\ \hline t & -\infty \rightarrow \infty \end{array}$$

よって

$$\begin{aligned} \text{左辺} &= \frac{1}{\sqrt{2\pi}\sigma} \int_{-\infty}^{\infty} (\sqrt{2}\sigma t + \mu) e^{-t^2} \cdot \sqrt{2}\sigma dt \\ &= \frac{1}{\sqrt{\pi}} \int_{-\infty}^{\infty} (\sqrt{2}\sigma t + \mu) e^{-t^2} dt \\ &= \frac{1}{\sqrt{\pi}} \left(\int_{-\infty}^{\infty} \sqrt{2}\sigma t e^{-t^2} dt + \int_{-\infty}^{\infty} \mu e^{-t^2} dt \right) \\ &= \frac{1}{\sqrt{\pi}} \left(\sqrt{2}\sigma \int_{-\infty}^{\infty} t e^{-t^2} dt + \mu \int_{-\infty}^{\infty} e^{-t^2} dt \right) \end{aligned}$$

ここで、不定積分 $\int t e^{-t^2} dt$ を求める。

$$-t^2 = u \text{ とおくと、} -2t dt = du \text{ より、} t dt = -\frac{1}{2} du$$

よって

$$\begin{aligned} \int t e^{-t^2} dt &= \int e^u \cdot \left(-\frac{1}{2} du \right) \\ &= -\frac{1}{2} \int e^u du \\ &= -\frac{1}{2} e^u = -\frac{1}{2} e^{-t^2} \end{aligned}$$

したがって

$$\begin{aligned}\int_{-\infty}^{\infty} te^{-t^2} dt &= \lim_{\substack{a \rightarrow -\infty \\ b \rightarrow \infty}} \int_a^b te^{-t^2} dt \\ &= \lim_{\substack{a \rightarrow -\infty \\ b \rightarrow \infty}} \left[-\frac{1}{2} e^{-t^2} \right]_a^b \\ &= -\frac{1}{2} \lim_{\substack{a \rightarrow -\infty \\ b \rightarrow \infty}} (e^{-b^2} - e^{-a^2}) = 0\end{aligned}$$

以上より

$$\begin{aligned}\text{左辺} &= \frac{1}{\sqrt{\pi}} \left(\sqrt{2}\sigma \int_{-\infty}^{\infty} te^{-t^2} dt + \mu \int_{-\infty}^{\infty} e^{-t^2} dt \right) \\ &= \frac{1}{\sqrt{\pi}} (\sqrt{2}\sigma \cdot 0 + \mu \cdot \sqrt{\pi}) \\ &= \frac{1}{\sqrt{\pi}} \cdot \mu\sqrt{\pi} \\ &= \mu = \text{右辺}\end{aligned}$$

■