

2章 微分の応用

問1 $y = f(x)$ とする .

(1) $f'(x) = 4x + 3$

よって

$$f(0) = 1$$

$$f'(0) = 3$$

したがって, $x = 0$ における接線の方程式は

$$y - f(0) = f'(0)(x - 0)$$

$$y - 1 = 3x$$

$$y = 3x + 1$$

(2) $f'(x) = \frac{1}{x}$

よって

$$f(1) = \log 1 = 0$$

$$f'(1) = 1$$

したがって, $x = 1$ における接線の方程式は

$$y - f(1) = f'(1)(x - 1)$$

$$y - 0 = 1 \cdot (x - 1)$$

$$y = x - 1$$

(3) $f'(x) = e^x$

よって

$$f(2) = e^2$$

$$f'(2) = e^2$$

したがって, $x = 2$ における接線の方程式は

$$y - f(2) = f'(2)(x - 2)$$

$$y - e^2 = e^2(x - 2)$$

$$y = e^2x - 2e^2 + e^2$$

$$y = e^2x - e^2$$

(4) $f'(x) = \cos x$

よって

$$f(\pi) = \sin \pi = 0$$

$$f'(\pi) = \cos \pi = -1$$

したがって, $x = \pi$ における接線の方程式は

$$y - f(\pi) = f'(\pi)(x - \pi)$$

$$y - 0 = -1 \cdot (x - \pi)$$

$$y = -x + \pi$$

問2 $y = f(x)$ とする .

(1) $f'(x) = 3x^2$

よって

$$f(1) = 1^3 = 1$$

$$f'(1) = 3 \cdot 1^2 = 3$$

したがって, $x = 1$ における法線の方程式は

$$y - f(1) = -\frac{1}{f'(1)}(x - 1)$$

$$y - 1 = -\frac{1}{3}(x - 1)$$

$$y = -\frac{1}{3}x + \frac{1}{3} + 1$$

$$y = -\frac{1}{3}x + \frac{4}{3}$$

(2) $f'(x) = (x^{-1})' = -x^{-2} = -\frac{1}{x^2}$

よって

$$f(2) = \frac{1}{2}$$

$$f'(2) = -\frac{1}{2^2} = -\frac{1}{4}$$

したがって, $x = 2$ における法線の方程式は

$$y - f(2) = -\frac{1}{f'(2)}(x - 2)$$

$$y - \frac{1}{2} = -\frac{1}{-\frac{1}{4}}(x - 2)$$

$$y = 4(x - 2) + \frac{1}{2}$$

$$y = 4x - 8 + \frac{1}{2}$$

$$y = 4x - \frac{15}{2}$$

(3) $f'(x) = 2x - 2$

よって

$$f(1) = 1^2 - 2 \cdot 1 = -1$$

$$f'(1) = 2 \cdot 1 - 2 = 0$$

$f'(1) = 0$ なので, $x = 1$ における法線の方程式は

$$x = 1$$

問3

(1) $f'(x) = x^2 - x + 2$

$$= (x - 1)^2 - 1 + 2$$

$$= (x - 1)^2 + 1$$

$(x - 1)^2 \geq 0$ なので, $(x - 1)^2 + 1 > 0$

よって, すべての実数 x について, $f'(x) > 0$ であるから, $f(x)$ は区間 I で単調に増加する .

(2) $f'(x) = \cos x - 1$

区間 $(0, 2\pi)$ の x について

$$-1 \leq \cos x < 1$$

であるから

$$-2 \leq \cos x - 1 < 0$$

すなわち, $f'(x) < 0$ であるから, $f(x)$ は区間 I で単調に減少する .

問4

(1) $y' = 2x - 6$

$$= 2(x - 3)$$

$y' = 0$ とすると, $x = 3$

$x = 3$ のときの y の値は

$$y = 3^2 - 6 \cdot 3 + 3$$

$$= 9 - 18 + 3$$

$$= -6$$

y の増減表は次のようになる .

x	...	3	...
y'	-	0	+
y	↘	-6	↗

よって

$x > 3$ のとき 増加

$x < 3$ のとき 減少

(2) $y' = 6x^2 - 18x$
 $= 6x(x - 3)$
 $y' = 0$ とすると, $x = 0, 3$
 $x = 0$ のときの y の値は
 $y = 12$
 $x = 3$ のときの y の値は
 $y = 2 \cdot 3^3 - 9 \cdot 3^2 + 12$
 $= 54 - 81 + 12$
 $= -15$

y の増減表は次のようになる .

x	...	0	...	3	...
y'	+	0	-	0	+
y	↗	12	↘	-15	↗

よって

$x < 0$, $x > 3$ のとき 増加
 $0 < x < 3$ のとき 減少

(3) $y' = 12x^3 + 12x^2 - 24x$
 $= 12x(x^2 + x - 2)$
 $= 12x(x + 2)(x - 1)$
 $y' = 0$ とすると, $x = -2, 0, 1$
 $x = 0$ のときの y の値は
 $y = 11$
 $x = -2$ のときの y の値は
 $y = 3 \cdot (-2)^4 + 4 \cdot (-2)^3 - 12 \cdot (-2)^2 + 11$
 $= 48 - 32 - 48 + 11$
 $= -21$
 $x = 1$ のときの y の値は
 $y = 3 \cdot 1^4 + 4 \cdot 1^3 - 12 \cdot 1^2 + 11$
 $= 3 + 4 - 12 + 11$
 $= 6$

y の増減表は次のようになる .

x	...	-2	...	0	...	1	...
y'	-	0	+	0	-	0	+
y	↘	-21	↗	11	↘	6	↗

よって

$-2 < x < 0$, $x > 1$ のとき 増加
 $x < -2$, $0 < x < 1$ のとき 減少

問 5

$(f(x) - x^2)' = 0$ より, $f(x) - x^2$ は, 定数関数なので, C を定数として

$$f(x) - x^2 = C$$

とおくことができる. これより

$$f(x) = x^2 + C$$

ここで, $f(1) = 5$ であるから

$$1^2 + C = 5, \text{ すなわち, } C = 5 - 1 = 4$$

よって, $f(x) = x^2 + 4$

問 6

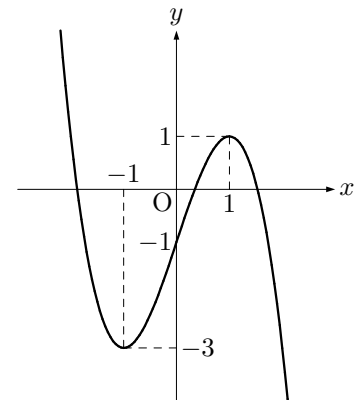
(1) $y' = -3x^2 + 3$
 $= -3(x^2 - 1)$
 $= -3(x + 1)(x - 1)$
 $y' = 0$ とすると, $x = -1, 1$
 $x = -1$ のときの y の値は
 $y = -(-1)^3 + 3 \cdot (-1) - 1$
 $= 1 - 3 - 1$
 $= -3$
 $x = 1$ のときの y の値は
 $y = -1^3 + 3 \cdot 1 - 1$
 $= -1 + 3 - 1$
 $= 1$

y の増減表は次のようになる .

x	...	-1	...	1	...
y'	-	0	+	0	-
y	↘	-3	↗	1	↘

よって

極大値 1 ($x = 1$)
 極小値 -3 ($x = -1$)



(2) $y' = 4x^3 - 12x^2 + 8x$
 $= 4x(x^2 - 3x + 2)$
 $= 4x(x - 1)(x - 2)$
 $y' = 0$ とすると, $x = 0, 1, 2$
 $x = 0$ のときの y の値は
 $y = 0$
 $x = 1$ のときの y の値は
 $y = 1^4 - 4 \cdot 1^3 + 4 \cdot 1^2$
 $= 1 - 4 + 4$
 $= 1$
 $x = 2$ のときの y の値は
 $y = 2^4 - 4 \cdot 2^3 + 4 \cdot 2^2$
 $= 16 - 32 + 16$
 $= 0$

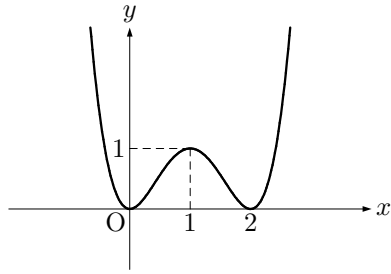
y の増減表は次のようになる .

x	...	0	...	1	...	2	...
y'	-	0	+	0	-	0	+
y	↘	0	↗	1	↘	0	↗

よって

極大値 1 ($x = 1$)

極小値 0 ($x = 0, 2$)



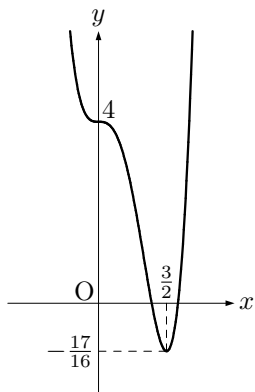
(3) $y' = 12x^3 - 18x^2$
 $= 6x^2(2x - 3)$
 $y' = 0$ とすると, $x = 0, \frac{3}{2}$
 $x = 0$ のときの y の値は
 $y = 4$
 $x = \frac{3}{2}$ のときの y の値は
 $y = 3 \cdot \left(\frac{3}{2}\right)^4 - 6 \cdot \left(\frac{3}{2}\right)^3 + 4$
 $= \frac{243}{16} - \frac{162}{8} + 4$
 $= \frac{243 - 324 + 64}{16} = -\frac{17}{16}$
 y の増減表は次のようになる.

x	...	0	...	$\frac{3}{2}$...
y'	-	0	-	0	+
y	↘	4	↘	$-\frac{17}{16}$	↗

よって

極大値 なし

極小値 $-\frac{17}{16}$ ($x = \frac{3}{2}$)



問 7

$y' = 3x^2 - 6x$
 $= 3x(x - 2)$
 $y' = 0$ とすると, $x = 0, 2$
 $x = 0$ のときの y の値は
 $y = a$
 $x = 2$ のときの y の値は
 $y = 2^3 - 3 \cdot 2^2 + a$
 $= 8 - 12 + a$
 $= a - 4$
 y の増減表は次のようになる.

x	...	0	...	2	...
y'	+	0	-	0	+
y	↗	a	↘	$a - 4$	↗

極大値が a , 極小値が $a - 4$ であるから

$$\begin{cases} a > 0 & \dots \text{①} \\ a - 4 < 0 & \dots \text{②} \end{cases}$$

②より, $a < 4$, これと①より

$$0 < a < 4$$

問 8

(1) $y' = -3x^2 + 6x$
 $= -3x(x - 2)$
 $y' = 0$ とすると, $x = 0, 2$
 $x = 0$ のときの y の値は
 $y = -2$
 $x = 2$ のときの y の値は
 $y = -2^3 + 3 \cdot 2^2 - 2$
 $= -8 + 12 - 2 = 2$
 $x = 3$ のときの y の値は
 $y = -3^3 + 3 \cdot 3^2 - 2$
 $= -27 + 27 - 2 = -2$

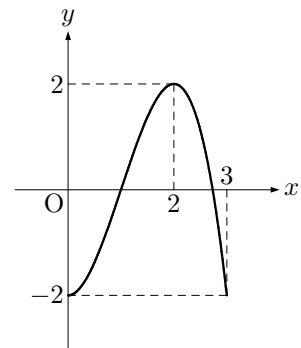
y の増減表は次のようになる.

x	0	...	2	...	3
y'	0	+	0	-	
y	-2	↗	2	↘	-2

よって

最大値 2 ($x = 2$)

最小値 -2 ($x = 0, 3$)



(2) $y' = 2 \cos x - 1$
 $y' = 0$ とすると
 $\cos x = \frac{1}{2}$ より, $x = \frac{\pi}{3}, \frac{5}{3}\pi$
 $x = 0$ のときの y の値は
 $y = 2 \sin 0 - 0 = 0$
 $x = \frac{\pi}{3}$ のときの y の値は
 $y = 2 \sin \frac{\pi}{3} - \frac{\pi}{3}$
 $= \sqrt{3} - \frac{\pi}{3}$
 $x = \frac{5}{3}\pi$ のときの y の値は
 $y = 2 \sin \frac{5}{3}\pi - \frac{5}{3}\pi$
 $= -\sqrt{3} - \frac{5}{3}\pi$
 $x = 2\pi$ のときの y の値は
 $y = 2 \sin 2\pi - 2\pi$
 $= -2\pi$

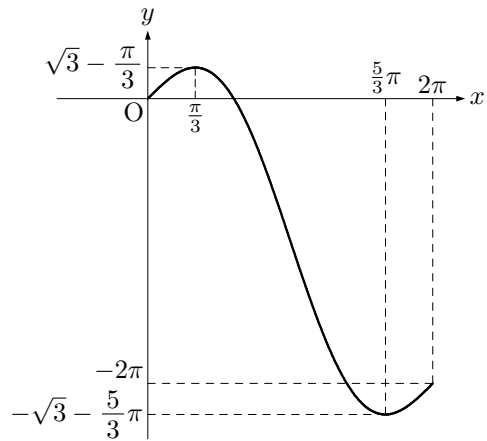
y の増減表は次のようになる.

x	0	...	$\frac{\pi}{3}$...	$\frac{5}{3}\pi$...	2π
y'		+	0	-	0	+	
y	0	↗		↘		↗	-2π

よって

最大値 $\sqrt{3} - \frac{\pi}{3}$ ($x = \frac{\pi}{3}$)

最小値 $-\sqrt{3} - \frac{5}{3}\pi$ ($x = \frac{5}{3}\pi$)



(3) $y' = e^x + xe^x$

$= e^x(1+x)$

$y' = 0$ とすると, $x = -1$

$x = -2$ のときの y の値は

$y = -2 \cdot e^{-2}$

$= -\frac{2}{e^2}$

$x = -1$ のときの y の値は

$y = -1 \cdot e^{-1}$

$= -\frac{1}{e}$

$x = 0$ のときの y の値は

$y = 0$

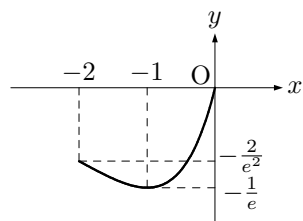
y の増減表は次のようになる.

x	-2	...	-1	...	0
y'		-	0	+	
y	$-\frac{2}{e^2}$	↘	$-\frac{1}{e}$	↗	0

よって

最大値 0 ($x = 0$)

最小値 $-\frac{1}{e}$ ($x = -1$)



y 軸方向にスケールを拡大してあります.

(4) $y' = 1 - \frac{1}{2\sqrt{x}}$

$= \frac{2\sqrt{x} - 1}{2\sqrt{x}}$

$y' = 0$ とすると, $2\sqrt{x} - 1 = 0$ より, $x = \frac{1}{4}$

$x = 0$ のときの y の値は

$y = 0$

$x = \frac{1}{4}$ のときの y の値は

$y = \frac{1}{4} - \sqrt{\frac{1}{4}}$

$= \frac{1}{4} - \frac{1}{2} = -\frac{1}{4}$

$x = 4$ のときの y の値は

$y = 4 - \sqrt{4}$

$= 4 - 2 = 2$

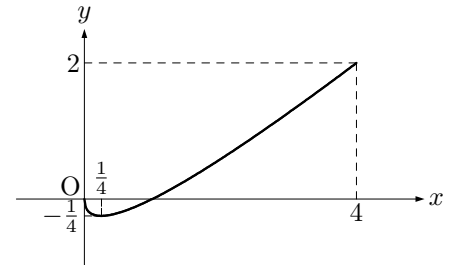
y の増減表は次のようになる.

x	0	...	$\frac{1}{4}$...	4
y'		-	0	+	
y	0	↘	$-\frac{1}{4}$	↗	2

よって

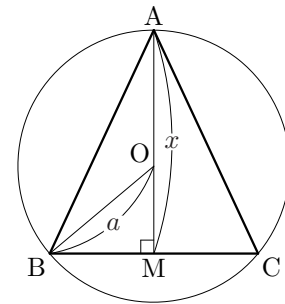
最大値 2 ($x = 4$)

最小値 $-\frac{1}{4}$ ($x = \frac{1}{4}$)



問9

図のように点を定める.



(1) $OM = |x - a|$ であるから, $BM = l$ とおくと, $\triangle OBM$ において三平方の定理より

$l^2 + |x - a|^2 = a^2$

よって

$l^2 = a^2 - (x - a)^2$

$= \{a + (x - a)\}\{a - (x - a)\}$

$= x(2a - x)$

$= 2ax - x^2$

$l > 0$ であるから, $l = \sqrt{2ax - x^2}$

$BC = 2l = 2\sqrt{2ax - x^2}$ となるので

$S = \frac{1}{2} \cdot 2\sqrt{2ax - x^2} \cdot x$

$= x\sqrt{2ax - x^2}$

また, $x > 0$, $2ax - x^2 > 0$ より, x の変域は

$0 < x < 2a$

(2) $S' = \sqrt{2ax - x^2} + x \cdot \frac{1}{2\sqrt{2ax - x^2}} \cdot (2a - 2x)$

$= \frac{2(2ax - x^2) + x(2a - 2x)}{2\sqrt{2ax - x^2}}$

$= \frac{-4x^2 + 6ax}{2\sqrt{2ax - x^2}}$

$= \frac{-x(2x - 3a)}{\sqrt{2ax - x^2}}$

$S' = 0$ とすると, $x = \frac{3}{2}a$
 $x = \frac{3}{2}a$ のときの S の値は

$$S = \frac{3}{2}a\sqrt{2a \cdot \frac{3}{2}a - \left(\frac{3}{2}a\right)^2}$$

$$= \frac{3}{2}a\sqrt{3a^2 - \frac{9}{4}a^2}$$

$$= \frac{3}{2}a\sqrt{\frac{3}{4}a^2}$$

$$= \frac{3}{2}a \cdot \frac{\sqrt{3}}{2}|a| = \frac{3\sqrt{3}}{4}a^2 \quad (a > 0 \text{ より})$$
 S の増減表は次のようになる.

x	0	...	$\frac{3}{2}a$...	$2a$
S'		+	0	-	
S		↗	$\frac{3\sqrt{3}}{4}a^2$	↘	

よって, $x = \frac{3}{2}a$ のとき, S は最大となる.
 また, このとき, $\triangle ABC$ は正三角形となり, S の最大値は $\frac{3\sqrt{3}}{4}a^2$

〔別解〕

$S = \sqrt{2ax^3 - x^4}$ であるから, $f(x) = 2ax^3 - x^4$ とおくと, $f(x)$ が最大となるとき, S も最大となるので, $0 < x < 2a$ における $f(x)$ の最大値を求める.

$$f'(x) = -6ax^2 - 4x^3 = -2x^2(2x - 3a)$$

$$f'(x) = 0 \text{ とすると, } x = \frac{3}{2}a$$

$x = \frac{3}{2}a$ のときの $f(x)$ の値は

$$f\left(\frac{3}{2}a\right) = 2a \cdot \left(\frac{3}{2}a\right)^3 - \left(\frac{3}{2}a\right)^4$$

$$= \frac{27}{4}a^4 - \frac{81}{16}a^4$$

$$= \frac{27}{16}a^4$$

$f(x)$ の増減表は次のようになる.

x	0	...	$\frac{3}{2}a$...	$2a$
$f'(x)$		+	0	-	
$f(x)$		↗	$\frac{27}{16}a^4$	↘	

よって, $x = \frac{3}{2}a$ のとき, $f(x)$ が最大となる.
 また, このとき, $\triangle ABC$ は正三角形となり, S の最大値は,
 $\sqrt{\frac{27}{16}a^4} = \frac{3\sqrt{3}}{4}a^2$

問 10

(1) $y = \tan x - x$ とおく.

$$y' = \frac{1}{\cos^2 x} - 1$$

$$= \frac{1 - \cos^2 x}{\cos^2 x}$$

$$= \frac{\sin^2 x}{\cos^2 x} = \tan^2 x$$

$y' = 0$ とすると, $x = 0$

$x = 0$ のときの y の値は

$$y = \tan 0 - 0 = 0$$

また, $0 \leq x < \frac{\pi}{2}$ において, $y' \geq 0$

y の増減表は次のようになる.

x	0	...	$\frac{\pi}{2}$
y'	0	+	
y	0	↗	

よって, $0 \leq x < \frac{\pi}{2}$ のとき, $x = 0$ で, 最小値 0 をとるから

$$y = \tan x - x \geq 0$$

すなわち, $\tan x \geq x \quad (0 \leq x < \frac{\pi}{2})$

(2) $y = x - 1 - \log x$ とおく.

$$y' = 1 - \frac{1}{x}$$

$$= \frac{x - 1}{x}$$

$y' = 0$ とすると, $x = 1$

$x = 1$ のときの y の値は

$$y = 1 - 1 - \log 1 = 0$$

y の増減表は次のようになる.

x	0	...	1	...
y'		-	0	+
y		↘	0	↗

よって, $x > 0$ のとき, $x = 1$ で最小値 0 をとるから

$$y = x - 1 - \log x \geq 0$$

すなわち, $\log x \leq x - 1 \quad (x > 0)$

問 11

(1) $\frac{0}{0}$ の不定形である.

$$\text{与式} = \lim_{x \rightarrow 1} \frac{(x^5 + x^3 - 2)'}{(x^4 + x^2 - 2)'}$$

$$= \lim_{x \rightarrow 1} \frac{5x^4 + 3x^2}{4x^3 + 2x}$$

$$= \frac{5 \cdot 1^4 + 3 \cdot 1^2}{4 \cdot 1^3 + 2 \cdot 1}$$

$$= \frac{8}{6} = \frac{4}{3}$$

〔別解〕

$$\text{与式} = \lim_{x \rightarrow 1} \frac{(x-1)(x^4 + x^3 + 2x^2 + 2x + 2)}{(x-1)(x^3 + x^2 + 2x + 2)}$$

$$= \lim_{x \rightarrow 1} \frac{x^4 + x^3 + 2x^2 + 2x + 2}{x^3 + x^2 + 2x + 2}$$

$$= \frac{1^4 + 1^3 + 2 \cdot 1^2 + 2 \cdot 1 + 2}{1^3 + 1^2 + 2 \cdot 1 + 2}$$

$$= \frac{8}{6} = \frac{4}{3}$$

(2) $\frac{0}{0}$ の不定形である.

$$\text{与式} = \lim_{x \rightarrow 0} \frac{(e^x - \cos x)'}{x'}$$

$$= \lim_{x \rightarrow 0} \frac{e^x + \sin x}{1}$$

$$= e^0 + \sin 0 = 1$$

(3) $\frac{0}{0}$ の不定形である.

$$\text{与式} = \lim_{x \rightarrow 0} \frac{(\sin 3x)'}{(\sin x)'}$$

$$= \lim_{x \rightarrow 0} \frac{3 \cos 3x}{\cos x}$$

$$= \frac{3}{1} = 3$$

〔別解〕

$$\text{与式} = \lim_{x \rightarrow 0} 3 \cdot \frac{\sin 3x}{3x} \cdot \frac{x}{\sin x}$$

$$= 3 \cdot 1 \cdot 1 = 3$$

問 12

(1) $\frac{0}{0}$ の不定形である .

$$\begin{aligned} \text{与式} &= \lim_{x \rightarrow 1} \frac{(x^4 - 4x + 3)'}{(x^3 - 3x + 2)'} \\ &= \lim_{x \rightarrow 1} \frac{4x^3 - 4}{3x^2 - 3} \quad \left(\text{まだ } \frac{0}{0} \right) \\ &= \lim_{x \rightarrow 1} \frac{(4x^3 - 4)'}{(3x^2 - 3)'} \\ &= \lim_{x \rightarrow 1} \frac{12x^2}{6x} \\ &= \lim_{x \rightarrow 1} 2x = 2 \cdot 1 = 2 \end{aligned}$$

〔別解〕

$$\begin{aligned} \text{与式} &= \lim_{x \rightarrow 1} \frac{(x-1)(x^3 + x^2 + x - 3)}{(x-1)(x^2 + x - 2)} \\ &= \lim_{x \rightarrow 1} \frac{x^3 + x^2 + x - 3}{x^2 + x - 2} \\ &= \lim_{x \rightarrow 1} \frac{(x-1)(x^2 + 2x + 3)}{(x-1)(x+2)} \\ &= \lim_{x \rightarrow 1} \frac{x^2 + 2x + 3}{x + 2} \\ &= \frac{1^2 + 2 \cdot 1 + 3}{1 + 2} \\ &= \frac{6}{3} = 2 \end{aligned}$$

(2) $\frac{0}{0}$ の不定形である .

$$\begin{aligned} \text{与式} &= \lim_{x \rightarrow 0} \frac{(\sin x - x)'}{(x^3)'} \\ &= \lim_{x \rightarrow 0} \frac{\cos x - 1}{3x^2} \quad \left(\text{まだ } \frac{0}{0} \right) \\ &= \lim_{x \rightarrow 0} \frac{(\cos x - 1)'}{(3x^2)'} \\ &= \lim_{x \rightarrow 0} \frac{-\sin x}{6x} \\ &= \lim_{x \rightarrow 0} \left(-\frac{1}{6} \cdot \frac{\sin x}{x} \right) \\ &= -\frac{1}{6} \cdot 1 = -\frac{1}{6} \end{aligned}$$

問 13

(1) $\frac{\infty}{-\infty}$ の不定形である .

$$\begin{aligned} \text{与式} &= \lim_{x \rightarrow \infty} \frac{(2x^2 - 2x + 3)'}{(-x^2 + 3x - 1)'} \\ &= \lim_{x \rightarrow \infty} \frac{4x - 2}{-2x + 3} \quad \left(\text{まだ } \frac{\infty}{-\infty} \right) \\ &= \lim_{x \rightarrow \infty} \frac{(4x - 2)'}{(-2x + 3)'} \\ &= \lim_{x \rightarrow \infty} \frac{4}{-2} \\ &= -2 \end{aligned}$$

〔別解〕

$$\begin{aligned} \text{与式} &= \lim_{x \rightarrow \infty} \frac{2 - \frac{2}{x} + \frac{3}{x^2}}{-1 + \frac{3}{x} - \frac{1}{x^2}} \\ &= \frac{2 - 0 + 0}{-1 + 0 - 0} = -2 \end{aligned}$$

(2) 与式を, $\lim_{x \rightarrow \infty} \frac{\tan^{-1} x - \frac{\pi}{2}}{\frac{1}{x}}$ と変形すれば, $\frac{0}{0}$ の不定形である .

$$\begin{aligned} \text{与式} &= \lim_{x \rightarrow \infty} \frac{\left(\tan^{-1} x - \frac{\pi}{2} \right)'}{\left(\frac{1}{x} \right)'} \\ &= \lim_{x \rightarrow \infty} \frac{1}{1 + x^2} \\ &= \lim_{x \rightarrow \infty} \left(-\frac{x^2}{1 + x^2} \right) \\ &= \lim_{x \rightarrow \infty} \left(-\frac{1}{\frac{1}{x^2} + 1} \right) \\ &= -\frac{1}{0 + 1} = -1 \end{aligned}$$

問 14

$$\begin{aligned} (1) \quad \text{与式} &= \lim_{x \rightarrow \infty} \frac{(x^2)'}{(e^{2x})'} \\ &= \lim_{x \rightarrow \infty} \frac{2x}{2e^{2x}} \\ &= \lim_{x \rightarrow \infty} \frac{x}{e^{2x}} \\ &= \lim_{x \rightarrow \infty} \frac{x'}{(e^{2x})'} \\ &= \lim_{x \rightarrow \infty} \frac{1}{2e^{2x}} = 0 \end{aligned}$$

$$\begin{aligned} (2) \quad y' &= \frac{2x \cdot e^{2x} - x^2 \cdot 2e^{2x}}{(e^{2x})^2} \\ &= \frac{2xe^{2x}(1-x)}{(e^{2x})^2} = \frac{2x(1-x)}{e^{2x}} \end{aligned}$$

$y' = 0$ とすると, $x = 0, 1$

$x = 0$ のときの y の値は

$$y = \frac{0^2}{e^0} = 0$$

$x = 1$ のときの y の値は

$$y = \frac{1^2}{e^2} = \frac{1}{e^2}$$

y の増減表は次のようになる .

x	...	0	...	1	...
y'	-	0	+	0	-
y	\searrow	0	\nearrow	$\frac{1}{e^2}$	\searrow

よって

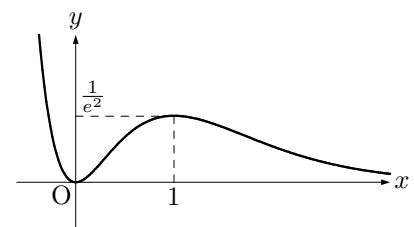
$$\text{極大値 } \frac{1}{e^2} \quad (x = 1)$$

$$\text{極小値 } 0 \quad (x = 0)$$

$\lim_{x \rightarrow \infty} \frac{x^2}{e^{2x}}$ を求める . $x = -t$ とおくと, $x \rightarrow -\infty$ のとき, $t \rightarrow \infty$ であるから

$$\begin{aligned} \lim_{x \rightarrow -\infty} \frac{x^2}{e^{2x}} &= \lim_{t \rightarrow \infty} \frac{(-t)^2}{e^{-2t}} \\ &= \lim_{t \rightarrow \infty} t^2 \cdot e^{2t} = \infty \end{aligned}$$

また, (1) より, x 軸は漸近線となる .



y 軸方向にスケールを拡大してあります .